

Демоверсия

итоговой контрольной работы по окружающему миру за курс 2 класса

1 вариант

1. Распредели слова в две группы: дождь, яблоня, тетрадь, белка, град, стол, листопад, буря.

Тела

Явления

2. Подпиши названия облаков.



3. Что такое звезда?

1) созвездие 2) пылающий шар, 3) маленькое солнце.

4. Какая звезда ближайшая к Земле?

1) Луна 2) Солнце 3) Сириус 4) Марс.

5. Как называется самая высокая часть холма или горы?

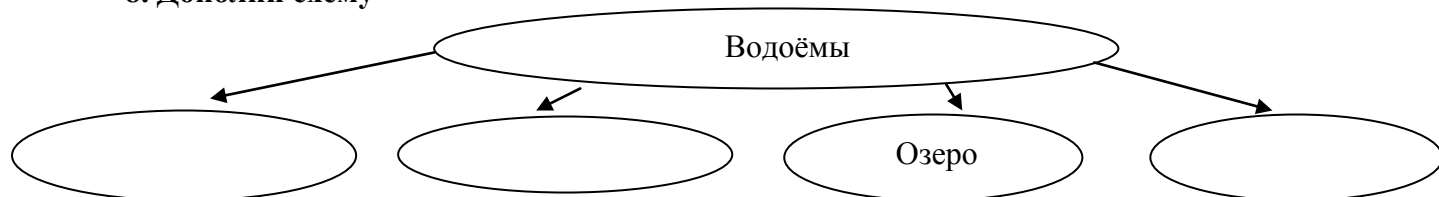
1) подошва 2) вершина 3) склон 4) не имеет названия

6. Ровные или почти ровные участки земной поверхности — что это?

1) холмы 2) горные хребты 3) равнины.

7. Исток — это _____.

8. Дополни схему



9. Символы государства - _____.

10. Столица нашего государства - _____.

11. Какой транспорт не является наземным?

1) Электричка 2) троллейбус 3) теплоход

12. В каком музее находятся чучела животных?

1) в историческом музее 2) в зоологическом музее 3) в краеведческом музее

13. К каким учреждениям относят музей, театр, выставочный зал?

1) образования 2) культуры 3) спортивным


2 вариант

1. Распредели слова в две группы: ливень, дуб, карандаш, синица, снегопад, крот, цунами, снежинка.

Тела

Явления

2. Подпиши названия облаков.



3. Горячими космическими телами являются.....

1) планеты 2) звёзды 3) спутники планет.

4. Оборот вокруг Солнца Земля совершает за....

1) месяц 2) полгода 3) год

5. Части холма — это :

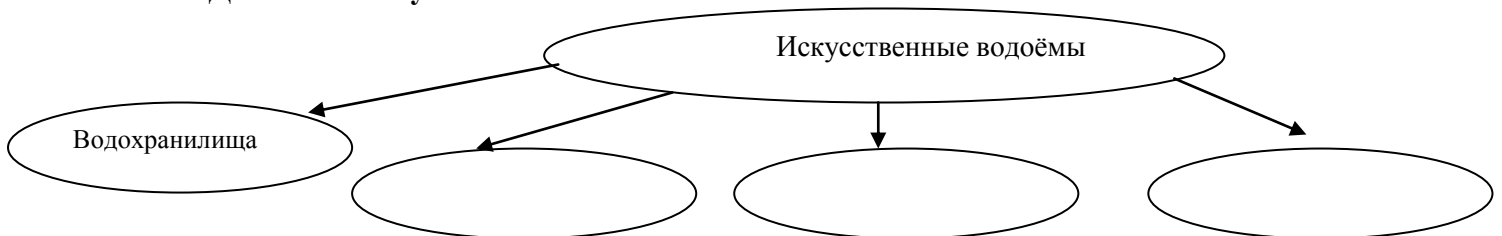
а) подошва, склон, вершина б) стелька, склон, вершина в) каблук, склон, верхушка.

6. Углубление, по которому течёт река:

а) русло б) исток в) приток.

7. Устье – это _____.

8. Дополни схему.



9. Так называется наше Отечество _____.

10. Основной закон государства - _____.

11. Какой транспорт не является пассажирским?

1) мусоровоз 2) метро 3) электричка

12. Какой музей рассказывает об истории города, края, области?

1) художественный музей 2) палеонтологический музей 3) краеведческий музей

13. Что не относится к учреждениям культуры?

1) университет 2) музей 3) театр